



## КЛУЧ ЗА ДРЖАВЕН НАТПРЕВАР ПО ГЕОГРАФИЈА

ЗА VIII ОДДЕЛЕНИЕ, Учебна 2021/2022 година

1. Замисли си дека пловиш со брод на релација Одеса – Лондон со комбинирање на морско/речен пловен пат. Дополни ги локациите кои мора да ги поминеш на твојата пловидба.

4x0,5=2

Започнуваш од пристаништето Одеса на брегот на ЦРНО Море, пловиш кон југ и навлегуваш во делтата на втората по големина река во Европа ДУНАВ. Пловиш узводно по реката низ Влашката Низина, а на крајот на низината поминуваш низ ЃЕРДАПСКАТА Клисура и навлегуваш во ПАНОНСКАТА Низина.

2. Во кои мориња/заливи се влеваат следниве реки?

3x0,5=1.5

Северна Двина БЕЛО Море  
Западна Двина РИШКИ Залив  
Дон АЗОВСКО Море

3. Разгледај ја картата на Европа и запиши ги бројчињата на дадените поими во празните полиња на картата.

10x0,5=5



- 1-грамадни планини
- 2-тундра
- 3-делта
- 4-макии
- 5-најголемо количество на врнежи
- 6-ледници
- 7-Килски канал
- 8-тајги
- 9-анектирана територија
- 10-минијатурна држава

4. Наброј три држави од Средна Европа кои немаат излез на море?

3x1=3

АВСТРИЈА, ШВАЈЦАРИЈА, ЧЕШКА, СЛОВАЧКА ИЛИ УНГАРИЈА.

5. Наброј две држави во Северна Европа кои според државното уредување се монархии.

2x1=2

Монархија ШВЕДСКА, НОРВЕШКА ИЛИ ДАНСКА

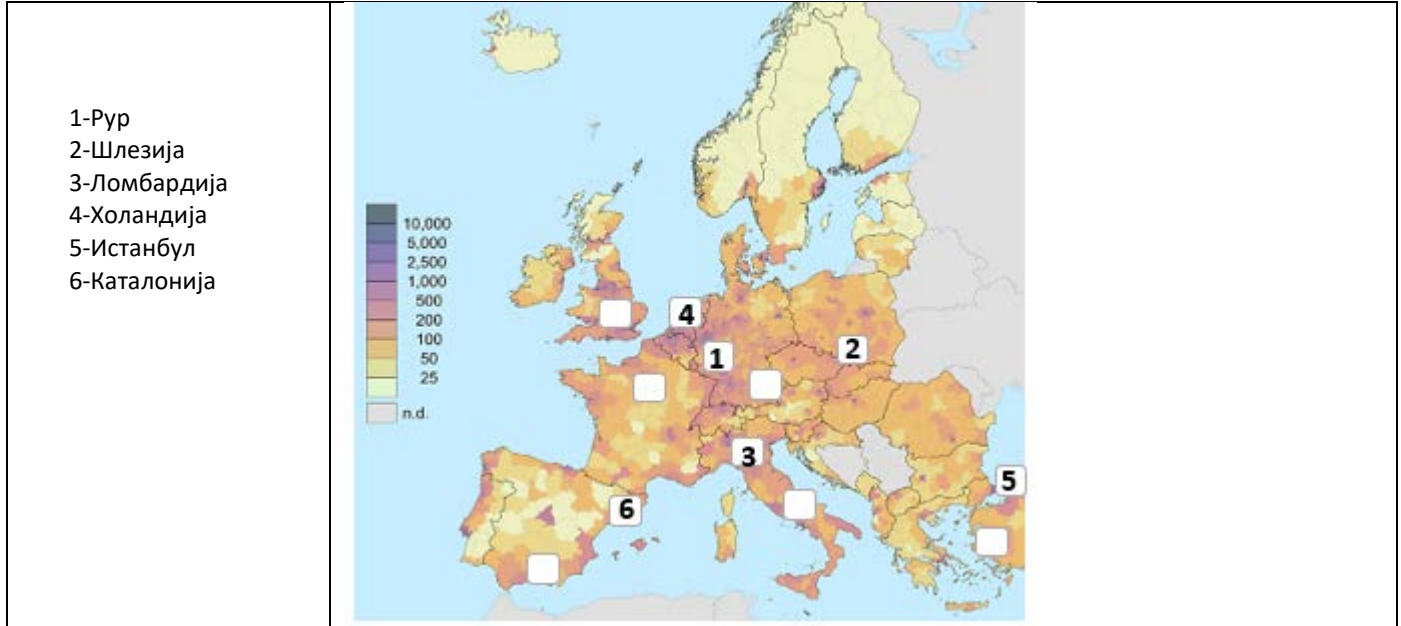
6. Градот Минхен се наоѓа на БАВАРСКАТА Висорамнин, а западно од неа е планината Шварцвалд од каде извира реката ДУНАВ.

2x0,5=1

7. Размести ги бројчињата од наведените простори на соодветното место на картата која ја претставува густината на населеност во Европа, а се однесуваат на едни од најгусто населените простори на континентот.

6x0,5=3

(Внимавај, на картата се прикажани повеќе полиња од потребните. Секое бројче запиши го само на едно место на картата!).



8. Заокружи два града од регионот на Средна Европа, кои се наоѓаат на најниска надморска височина?

2x1=2

Лондон, Берлин, Хамбург, Париз, Прага, Варшава, Гдањск, Копенхаген.

9. Подреди ги просторите во соодветната климатско-вегетациска област.

Влашка Низина, Нова Земја, Јиланд, Корзика, Ирска, Источно-евроска Низина, Шпицбершки Острови, Крф.

8x0,5=4

Субполарна Нова Земја, Шпицбершки Острови

Атлантска Јиланд, Ирска

Континентална Влашка Низина, Источно-евроска Низина

Суптропска Корзика, Крф

10. Подреди ги островите или островските групи во државата на која припаѓаат.

12x0,5=6

<p>Шпанија <u>КАНАРСКИ ОСТРОВИ, БАЛЕАРСКИ ОСТРОВИ</u>          Данска <u>ФАРСКИ ОСТРОВИ</u>          Португалија <u>МАДЕИРА, АЗОРСКИ ОСТРОВИ</u>          Грција <u>СПОРАДИ, КРФ</u>          Хрватска <u>ХВАР, БРАЧ</u>          Франција <u>КОРЗИКА</u>          Велика Британија <u>ШЕТЛАНДСКИ ОСТРОВИ</u>          Шведска <u>ГОТЛАНД</u></p>	
---	--

11. После секоја наведена констатација заокружи Т (точно) или Н (неточно).

6x0,5=3

Во Северно Море се врши експлоатација на нафта.	<u>Т</u>	Н
Франција е зависна од нуклеарната енергија.	<u>Т</u>	Н
Шведска е сиромашна со железна руда.	Т	<u>Н</u>

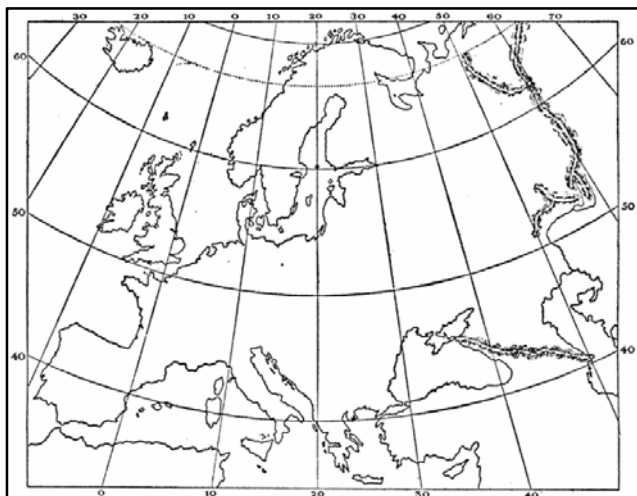
Скоро целокупното производство на електрична енергија на Норвешка отпаѓа на хидроенергијата.	<u>Т</u>	<u>Н</u>
Данска е голем производител на хартија.	<u>Т</u>	<u>Н</u>
Во Финска е развиено полјоделството.	<u>Т</u>	<u>Н</u>

12. Распореди ги дадените географски поими во државата каде припаѓаат.

14X0,5=7

<p>Србија КОПАОНИК, МОРАВА  Словенија КРАЊСКА ГОРА, КАРАВАНКИ  Шпанија АРАГОНИЈА, БАСКИЈА  Франција ЦЕНТРАЛЕН МАСИВ, ГРЕНОБЛ  Велика Британија ПЕНИНСКИ ПЛАНИНИ, ШКОТСКА  Шведска КИРУНА, ГЕТЕБОРГ  Германија БОН, АЈФЕЛ</p>	
--	--

Според дадената карта на Европа одреди ја локацијата на прикажаните слики од Google Earth и одговори на прашањата.



3x1

13. Локацијата е во државата РУСИЈА. На сликата е прикажана реката ВОЛГА која при својата утока формира ДЕЛТА

3x1

14. Според дадената карта на Европа одреди ја локацијата на прикажаните слики од Google Earth и одговори на . Локацијата е во државата НОРВЕШКА, а на сликата под број 1 забележувате залив наречен ФЈОРД, а под број 2 висорамнини наречени ФЈЕЛДИ.

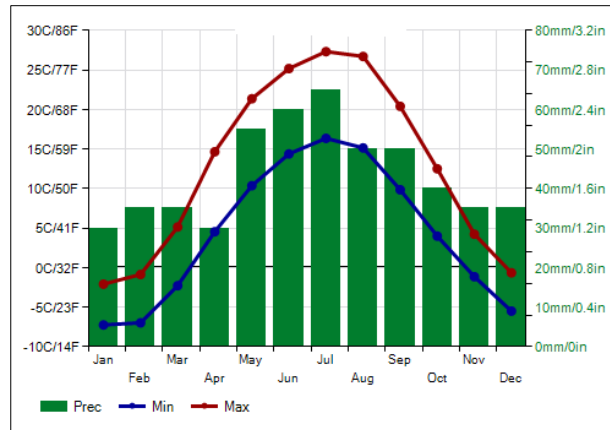
3x1

15. Локацијата е во државата ФРАНЦИЈА. На сликата е прикажана потопена речна утока наречена ЕСТУАР и истата се влева во БИСКАЈСКИ ЗАЛИВ.

16. Локацијата е во државата ИТАЛИЈА. На сликата е прикажан вулканот ВЕЗУВ во близина на ТИРЕНСКО Море.

3x1

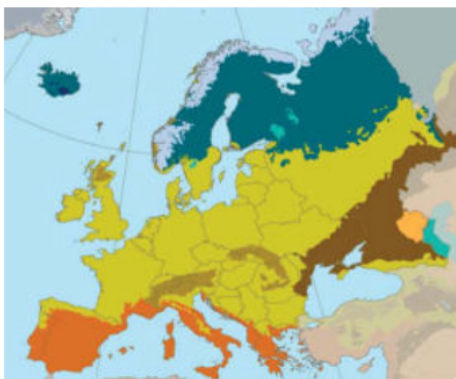
17. Анализирај го климатскиот графикон на кој со зелени столбови е прикажано количеството на врнежи, а со линии е прикажана просечната максимална и минимална температура на воздухот. Под графиконот напиши кој климатски тип се среќава на дадениата локациј. 1x1



**КОНТИНЕНТАЛЕН**

18. Колку изнесува просечната густина на населеност во Велика Британија? **271 жител на км<sup>2</sup>** 1x1
19. Кои се најатрактивните бањски туристички места во Франција? **Вител, Виши, Евиан, Аргелест Газост** 2x0.5=1
20. За колку км<sup>2</sup> е поголема површината на Германија од површината на Бенелукс? **282.732 км<sup>2</sup>** 1x1
21. Освен данскиот јазик, кој што е службен јазик во Данска, кои други јазици се користат во одвоените територии на Данска?  
**Фарскиот и Гренландскиот јазик.** 2x0.5=1
22. Наброј ги пештерите во Словачка, кои се под заштита на УНЕСКО. **Добшинска Ледена Пештера, Домика Пештера, Гомбасек Пештера, Јасовска Пештера, Охтинска Арагонитска Пештера** 5x0.5=2.5
23. Кои се првите пет милионски градови во Русија? **Москва, Санкт Петербург, Новосибирск, Екатеринбург и Нижни Новгород** 5x0.5=2.5
24. Територијата на Европа се протега на северната полутопка од **71° СГШ**, (ртот Нордкап ) до **36° СГШ** (ртот Мароки ) и од **9°31' ЗГД** (ртот Рока) до **67° ИГД** (на планината Урал) 1x1
25. На соодветното место напиши ги растителните заедници во Европа.  
**Тундра, Тајга, Медитеранска флора, Суви степи, Влажни степи, Иглолисни шуми** 6x1=6

Карта на растителни заедници во Европа



- 
- 
- 
- 
- 
-

26. На какви сливни подрачја припаѓаат реките во Европа? **отворени (егзореични) и затворени (ендореични)** 2x0.5=1

27. Напиши го водениот режим кој одговара на соодветниот речен слив во Европа. **Снежно-леднички, Дождовен, Дождовен, Снежно-дождовен** 4x0.5=2

Слив	Воден режим
Арктички	
Атлански	
Медитерански	
Касписки	

28. Кои јазици припаѓаат на Келтската гранка од Индоевропската јазична група? **Келтската гранка ја сочинуваат постари индоевропски јазици што се користат во Западна Европа, и тоа: Полуостровот Бретања, Ирска, Шкотска, Велс и на островот Ман.** 1x1

29. Во табелата внеси ги најголемите градови во Европа со соодветните податоци. 5x1=5

Град	Популација	Држава
Москва	11.980.000	Русија
Лондон	8.310.000	Велика Британија
Санкт Петербург	5.130.000	Русија
Берлин	3.520.000	Германија
Мадрид	3.205.000	Шпанија

30. Во табелата наведи ги земјите и нивното државно уредување од регионот на Јужна Европа, кои не се републики. 4x1=4

Држава	Државно уредување
Ватикан	Изборна монархија
Андора	Кнежевство
Шпанија	Монархија
Босна и Херцеговина	Сојузна република

31. Во кои држави во Европа најмногу е распространет Протестантизмот? **Велика Британија, Германија, Шведска, Норвешка, Данска и други земји** 5x0.5=2.5

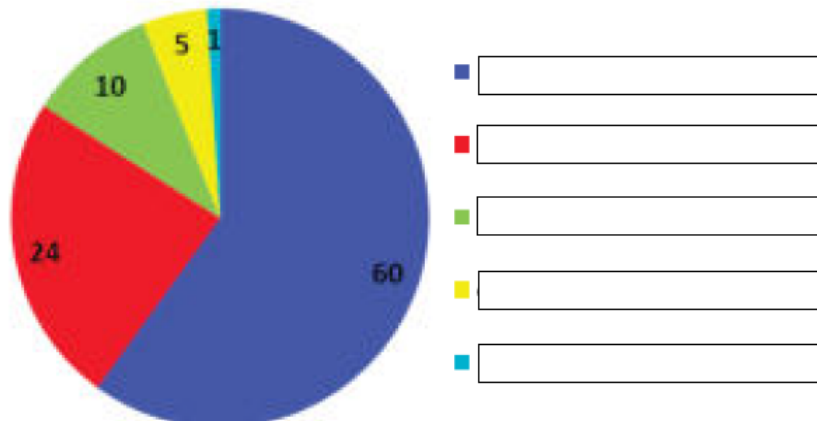
32. Во означените полиња напиши ги регионите во Данска и најголемите градови во нив. 5x0.5=2.5



Регион	Најголем град
Главен	Копенхаген
Централен	Архус
Северен	Алборг
Зеланд	Роскилде
Јужен	Одензе

33. Кои се главни центри на металургијата, машинската и хемиската индустрија во Чешка? **Кладно, Усти, Брно, Моравска Острава, П'лзењ (доволно се најмалку два)** 1x1
34. Кои климатски типови се застапени во умерениот климатски појас во Русија? **континентален, умерено континентален, степско-пустински, планински, суптропски. (потребни се сите одговори)** 1x1
35. Колку изнесува релативната надморска височина на највисокиот врв во Европа во однос на средната надморска височина на континентот? **4.507 метри.** 1x1
36. Наброј две држави во Северна Европа кои според државното уредување се републики? **1x1**  
Република **ФИНСКА, ИСЛАНД**
37. На соодветното место напиши го висинскиот појас кој одговара на шематскиот приказ. **Низини (0-200 м), Ридови (200-500 м), Ниски планини (500-1000 м), Средни планини (1000-2000 м), Високи планини (над 2000 м).** 5x0.5=2.5

Шематски приказ на висинските појаси во Европа (во %)



38. Наброј ги народите од Германската група на народи кои живеат во Европа. **Германците, Англичаните, Шведаните, Холанѓаните, Норвежаните, Данците и Австријците. (Доволно се три)** 3x1
39. Кои се најпознати туристички центри во Швајцарија? (доволно да наведете три) **3x1**  
**Сент Мориц, Давос, Луцерн, Венген.....**
40. Што претставуваат Ријасите? **1x1**  
**Ријасите претставуваат длабоки и разгранети заливи на повеќе ракави што настанале како последица од потопувањето на долниот дел од сливот на поголема морска притока.**

